



Adı Soyadı :

Numarası :

Konu: Çarpma İşlemi İle İlgili Problemler 3

Aşağıdaki problemleri dikkatlice okuyalım ve cevaplayalım.

1) Özlem, 14 yaşındadır. Annesi, Özlem'in yaşının 4 katından 9 yaş küçüktür. Annesi, Özlem'den kaç yaş büyüktür?

5) Babam tanesi 35 TL'den 3 gömlek, tanesi 357 TL'den 2 mont alıyor. Babam, satıcıya 1000 TL ödediğine göre kaç lira para üstü almıştır?

2) 500 metrelik koşu parkurunda bir haftada 23 tur koşan bir sporcu dört haftada kaç metre koşmuştur?

6) Amcam 55 800 TL peşinat vererek 70 ay taksitle bir av aldı. Eve her ay 1200 TL taksit ödeyen babam evi toplam kaç TL'ye almıştır?

3) Rize – Samsun arası 402 km'dir. Bu yolu her gün gidip gelen şehirler arası bir otobüs 1 ayda (30 gün) kaç km yol gitmiş olur?


7) Manolya Sitesi'nde 8'er katlı 14 bina vardır. Her katta 4 daire olduğuna göre Manolya Sitesi'nde kaç daire vardır?

4) 40 metre aralıklarla 160 lambanın bulunduğu bir yolun 1800 metrelik kısmı asfaltlandı. Buna göre asfaltlanması gereken kaç metre yol kalmıştır?


8) Bir çarpma işleminde, çarpanlardan biri 30, diğeri 6'dır. Çarpımın 5 katının 200 fazlası kaçtır?



9) Bir çiftlikte 345 tane inek, 584 tane tavuk vardır. Buna göre çiftlikteki inek ve tavukların ayakları toplamı kaçtır?

A large, empty grid consisting of 10 columns and 5 rows of squares, intended for drawing a picture.

10) " $12 \times A = 36$ " ve " $A \times B = 18$ " olduğuna göre B kaçtır?

A large rectangular grid consisting of 10 columns and 6 rows of squares, intended for drawing a picture.


11) Fatma, hafta içi her gün 40 sayfa, hafta sonları 70 sayfa kitap okuyor. Bir hafta sonunda 371 sayfalık kitabın okunmayan kaç sayfası kalır?

[illegible]

12) Aynı anda zıt yönlerde hareket eden araçlardan birinin saatteki hızı 95 km, diğerinin hızı 80 km'dir. Buna göre 7 saat sonra aralarındaki uzaklık kaç kilometredir?

[illegible]

13) Burak, bir ayda 478 lira para biriktiriyor. Burak 1 yılın sonunda biriken paranın 1900 lirasını harcarsa geriye kaç lirası kalır?



14) Bir işçini 1 saatlik çalışma ücreti 15 TL'dir. Her gün 8 saat çalışan bu işçi bir haftada kaç lira kazanır?

[illegible]

15) Bir sinema salonunda 397 koltuk vardır. Bu sinemada sabah, öğlen ve akşamki filimler için tüm biletler satılmıştır. Buna göre satılan toplam bilet sayısı kaçtır?

[illegible]

16) Bir çiftçi ürettiği fındıkları 25kg'lık 40 çuvala ve 50 kg 35 çuvala dolduruyor. 23 kg fındık da açıkta kalıyor. Bu çiftçi kaç kg fındık üretmiştir?

[illegible]